

ŠKOLSKO NATJECANJE IZ GEOGRAFIJE 2020. GODINE

ŠESTI RAZRED

U prezentaciji imate sva pitanja koja su bila na natjecanju 2020. godine. Pitanja na vašem natjecanju neće biti ista kao ova, možda slična. Učite iz udžbenika i radne bilježnice, a nije loše pročitati šta imate na e sferi.

Kada pročitate pitanje napišite odgovor u bilježnicu ili na komad papira.

I tako pitanje po pitanje, ne preskačite ono što ne znate, odgovorite bilo kako.

Kad ste napisali odgovor kliknite još jednom i pokazat će vam se na slijedećem slajdu točan odgovor.

Nastojte prije napisati odgovor, a onda provjeriti da li ste odgovorili točno. Kada riješite test do kraja, zbrojite svoje bodove i sami sebe ocijenite.

Budite poštteni i ne varajte sami sebe.

Sve odgovore koji nisu točni naučite i ponovite znanje.
Sretno!

TOČNI ODGOVORI!

1. a

2. b

3. a

4. d

U SLJEDEĆEM ZADATKU RAZVRSTAJ POJMOVE UPISIVANJEM SLOVA U ODGOVARAJUĆE DIJELOVE KRUGA. U SVAKI KRUG I NJIHOV POVEZANI DIO MORAJU BITI UPISANA PO DVA SLOVA.

5. Navedene pojmove razvrstaj s obzirom odnose li se na prirodnu ili selidbenu promjenu.

A – stopa rodnosti

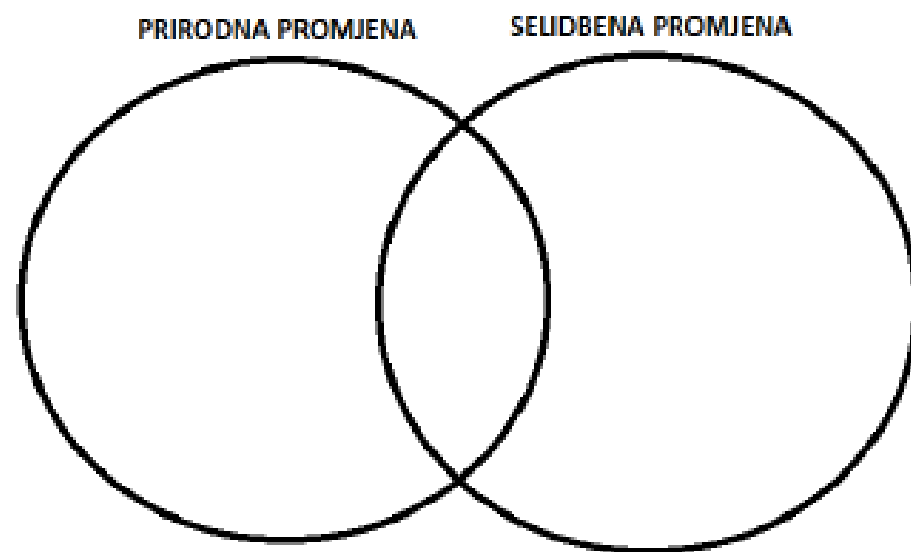
B – pad ukupnog broja stanovnika

C – odljev mozgova (brain drain)

D – prirodni prirast

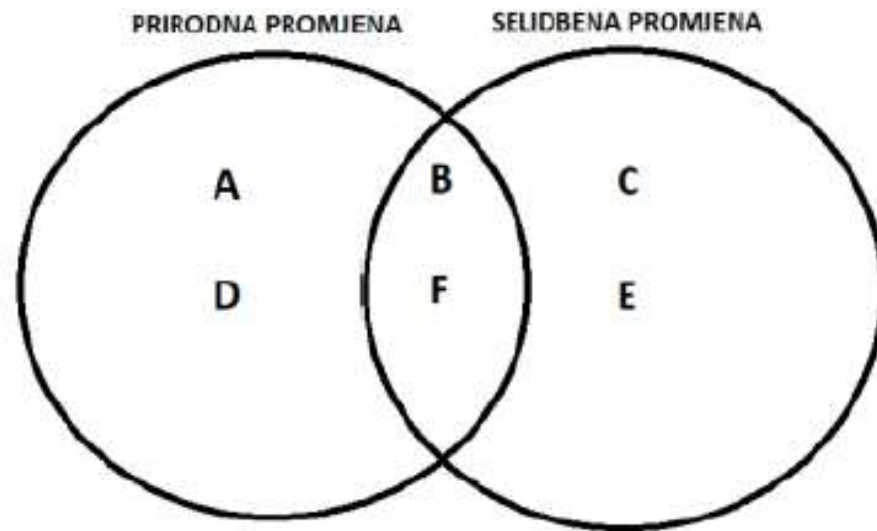
E – doseljavanje

F – rast ukupnog broja stanovnika



TOČNI ODGOVORI!

5.



**SLJEDEĆA TRI ZADATKA RIJEŠI UZ POMOĆ PRILOŽENE TABLICE
GOSPODARSKIH POKAZATELJA ODABRANIH DRŽAVA.**

Država	BDP (po glavi stan.) (\$)	Pothranjenost djece (%)	Pismenost (%)
Bangladeš	4 570	32,8	72,9
Japan	44 380	3,4	99,0
Kina	9 460	2,4	96,4
Pakistan	1 590	23,1	57,9
Republika Koreja	40 090	0,7	97,9

6. S obzirom na vrijednost BDP-a, ime gospodarski najrazvijenije države u tablici je _____, a najslabije je razvijena država čije je ime _____.

7. Ime države smještene na jednom od većih azijskih poluotoka, koja se ubrzano počela razvijati u razdoblju između 1960-ih i 1990-ih godina zahvaljujući iznimno ubrzanoj industrijalizaciji, poticanju izvoza i velikim ulaganjima u obrazovanje te se danas ubraja u visokorazvijene države svijeta je _____.

Izgradnju Pelješkog mosta, koji ima veliko strateško značenje za Hrvatsku, vodi kompanija iz države navedene u tablici čije je ime _____.

8. Ime istočnoazijske države s nižom razinom pismenosti od ostalih navedenih u tablici je _____, a ime države koja ima najmanje problema sa zadovoljavanjem osnovnih životnih potreba (hrana i voda) je _____.

SLJEDEĆA TRI ZADATKA RIJEŠI UZ POMOĆ PRILOŽENIH GRAFIČKIH
PRILOGA.



9. Naziv nanosa materijala na kojem je
nastalo vrlo plodno tlo na području
uokvirenom elipsom na priloženoj karti je

_____ . Gospodarska djelatnost koja se razvila i prevladava na tom
području, a prikazuje ju fotografija detalja riječnog toka je

_____ .

10. Na području rijeke uokvirene elipsom razvila se drevna _____
civilizacija (upiši naziv civilizacije), a ime mora u koje se ta rijeka ulijeva je

_____.

11. Ime površinom najvećeg otoka unutar kvadrata na priloženoj karti je

_____. Otočje na karti označeno znakom X pripada teritoriju
države čije je ime _____, dok su otoci označeni brojevima 1 i 2 dio
teritorija države čije je ime _____.

SLJEDEĆA TRI ZADATKA RIJEŠI UZ POMOĆ PRILOŽENOG GRAFIČKOG PRILOGA.

12. Tekst na logotipu sa slike
B napisan je pismom čiji je
naziv

_____ , a

naziv službenog pisma u

Republici Hrvatskoj je

_____.



13. Država uz koju vezujemo tekst ispisan na logotipu A nalazi se na kontinentu čije je
ime _____ . Veliko međunarodno sportsko natjecanje uz koje su

vezani logotipi sa slika, a koje se ove godine održava u gradu Tokyju naziva se

_____.

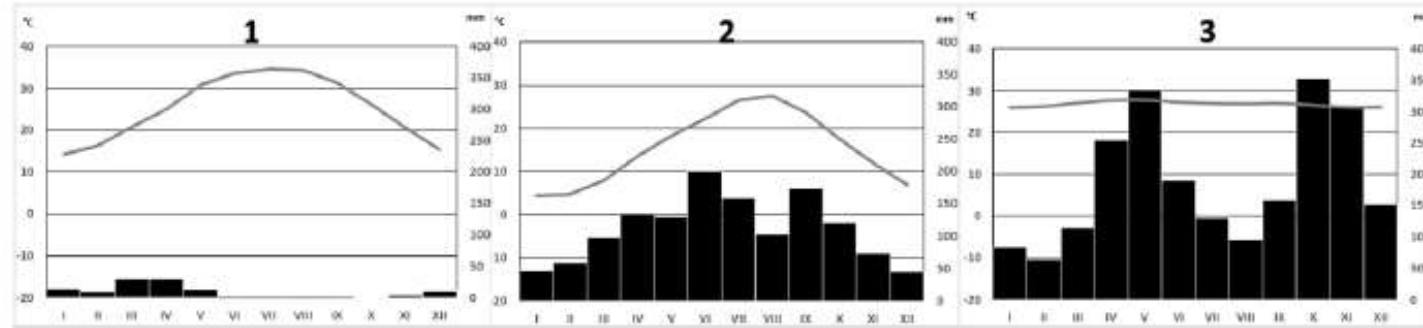
14. Poveži pisma na grafičkom prilogu upisivanjem samo jednog slova na crte ispred
pripadajućih jezika. Dvije crte moraju ostati prazne.

___ arapski ___ gruzijski ___ hebrejski ___ kineski ___ ruski

TOČNI ODGOVORI!

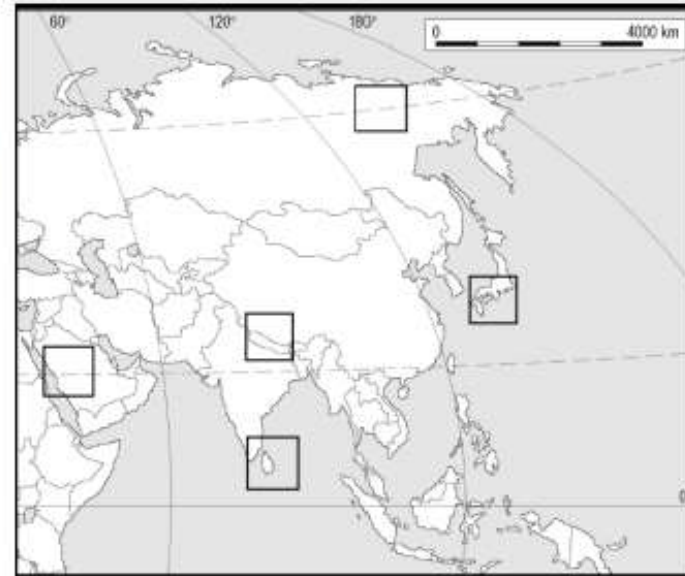
6. Redoslijedom: **Japan; Pakistan**
7. Redoslijedom: **Republika Koreja; Kina**
8. Redoslijedom: **Kina; Republika Koreja**
9. Redoslijedom: **les (prapor); poljoprivreda**
10. Redoslijedom: **kineska; Žuto (more)**
11. Redoslijedom: **Kalimantan (Borneo); Filipini; Indonezija**
12. Redoslijedom: **ćirilica; latinica**
13. Redoslijedom: **Azija; Olimpijske igre**
Ne priznaje se odgovor Olimpijada.
14. C arapski ___ gruzijski ___ hebrejski A kineski B ruski

SLJEDEĆA ČETIRI ZADATKA RIJEŠI UZ POMOĆ PRILOŽENIH KLIMATSKIH
DIJAGRAMA I KARTE.



15. Upiši broj 2 u kvadratić na karti koji se nalazi u području s klimom prikazanom na dijagramu 2, a broj 3 u kvadratić na području s klimom prikazanom na dijagramu 3.

16. Najmanja godišnja amplituda temperature vidljiva je na dijagramu broj _____, dok su mjeseci bez padalina zabilježeni na dijagramu broj _____.



17. Datulje su tradicionalni poljoprivredni proizvod u područjima s klimom prikazanom na dijagramu broj ____ dok najveću proizvodnju cimeta i klinčića imaju područja s klimatskim tipom prikazanim na dijagramu broj ____.

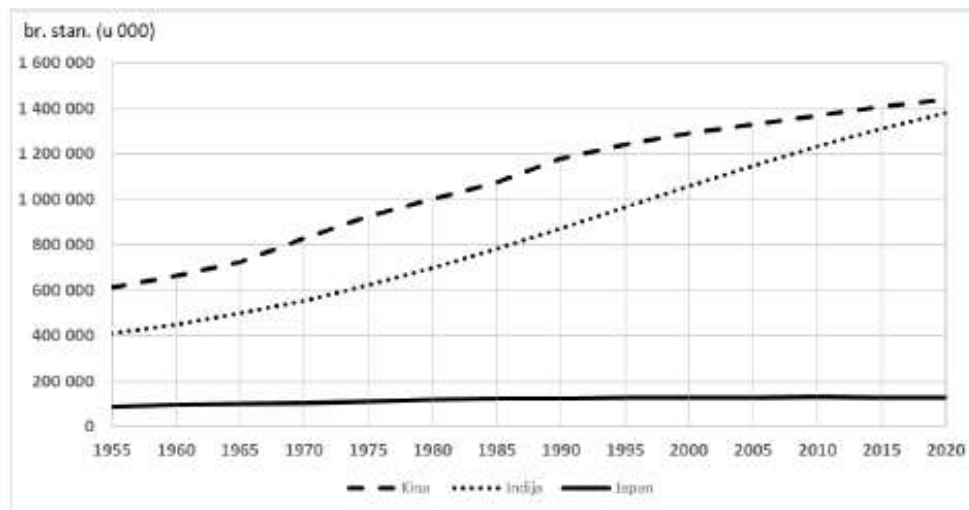
18. Najveća prosječna količina padalina u razdoblju klimatološke jeseni vidljiva je na dijagramu broj ____ . Najmanju gustoću naseljenosti imaju područja s klimatskim tipom prikazanim na dijagramu broj ____ .

SLJEDEĆA DVA ZADATKA RIJEŠI UZ POMOĆ PRILOŽENOG DIJAGRAMA.

19. Najveći porast ukupnog broja stanovnika između 2005. i 2015. godine ima država čije je ime _____.

Ukoliko se nastavi ovakav trend kretanja ukupnog broja stanovnika, najmnogoljudnija država u budućnosti bit će država čije je ime _____.


_____, a veći pad ukupnog broja stanovnika dogodit će se najprije u državi čije je ime _____.



PROSTOR ZA RAČUNANJE

20. Ukupan broj stanovnika Kine 1980. godine iznosio je _____ stan., dok je porast ukupnog broja stanovnika Indije između 1955. i 1985. godine iznosio _____ stan. Država s najmanjim ukupnim brojem stanovnika 2015. godine je _____.

SLJEDEĆA ČETIRI ZADATKA RIJEŠI UZ POMOĆ PRILOŽENOG DIJAGRAMA STRUKTURE BDP-A I FOTOGRAFIJE.



21. Udio sektora djelatnosti čiji je proizvod prikazan na slici desno na prikazanom dijagramu iznosi ____%. Vrijednost koju stvaraju burze na kojima su dostupni vrijednosni papiri (dionice) međunarodne kompanije sa slike desno pribraja se _____ sektoru djelatnosti (upiši naziv sektora djelatnosti).

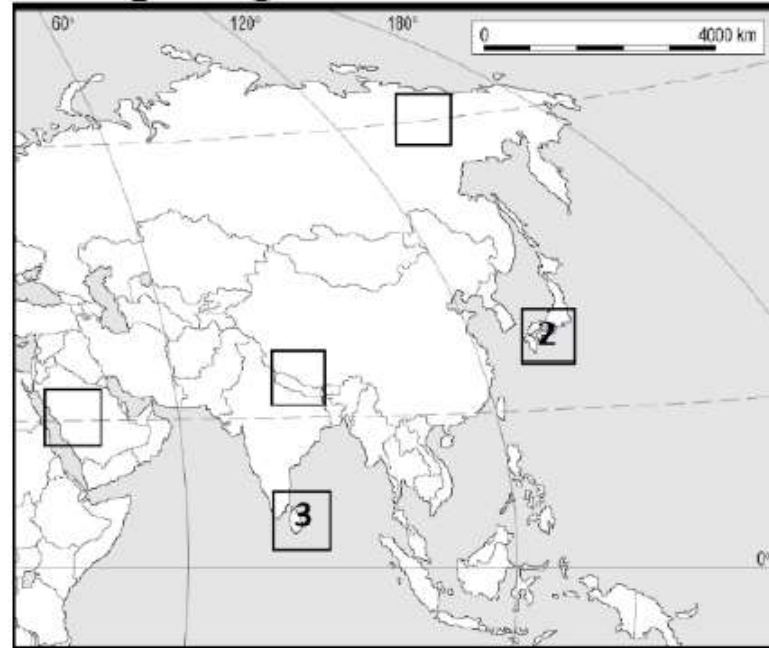
22. Ime države uz koju vežemo dijagram na slici lijevo i proizvod na slici desno je _____. Navedena država je zbog iznimno visokog stupnja gospodarskog razvoja članica skupine najbogatijih industrijskih država svijeta čiji je naziv _____.

23. Proizvod sa slike desno danas je dostupan na velikom broju tržišta diljem svijeta prije svega zahvaljujući procesu _____, koji upućuje na sve veću povezanost svijeta i stvaranje svjetskog tržišta zahvaljujući razvoju prometa i napretku tehnologije. Za prekooceanski prijevoz prikazanog proizvoda najčešće se koristi _____ promet, zbog toga što je povoljniji u odnosu na ostale oblike prometa.

24. Pogonsko gorivo za najveći broj automobila proizvod je _____ industrije (upiši naziv grane industrije), ali se zbog zaštite okoliša i održivog razvoja to pogonsko gorivo u automobilima sve više zamjenjuje _____.

TOČNI ODGOVORI!

Vidi prilog 2.



15.

- 16.** Redosljedom: **3 (tri); 1 (jedan)**
- 17.** Redosljedom: **1 (jedan); 3 (tri)**
- 18.** Redosljedom: **3 (tri); 1 (jedan)**
- 19.** Redosljedom: **Indija; Indija; Japan**
- 20.** Redosljedom: **1 milijardu (jednu milijardu, 1 000 000 000); točan odgovor čine svi brojevi u rasponu od 390 000 000 do 400 000 000; Japan**
- 21.** Redosljedom: **30,1; terciarnom**
- 22.** Redosljedom: **Japan; G-7 (G 7)**
- 23.** Redosljedom: **globalizacije; pomorski**
- 24.** Redosljedom: **petrokemijske; električnom energijom (električnom strujom)**

**SLJEDEĆA DVA ZADATKA RIJEŠI UZ POMOĆ PRILOŽENE TABLICE
DEMOGRAFSKIH PODATAKA GRADA ĐAKOVA.**

Godina	Broj stanovnika (na početku godine)	Rođeni	Umrli	Doseljeni	Odseljeni
2012.	27672	311	278	313	408
2013.		268	289	359	446
2014.	27502	275	338	393	643
2015.	27189	235	323		731
2016.	26816	235	327	325	665

25. Upiši u tablicu podatke koji nedostaju.

26. Grad Đakovo pozitivnu prirodnu promjenu bilježi samo _____ godine, a dvije godine s najvećim prirodnim padom broja stanovnika su _____ godina. Selidbena promjena 2016. godine iznosi _____ stanovnika.

PROSTOR ZA
RAČUNANJE

TOČNI ODGOVORI!

25. Vidi prilog 3.

Godina	Broj stanovnika (na početku godine)	Rođeni	Umrli	Doseljeni	Odseljeni
2012.	27672	311	278	313	408
2013.	27610	268	289	359	446
2014.	27502	275	338	393	643
2015.	27189	235	323	446	731
2016.	26816	235	327	325	665

26. Redoslijedom: 2012.; 2015. i 2016.; -340

SLJEDEĆA TRI ZADATKA RIJEŠI UZ POMOĆ PRILOŽENE KARTE.

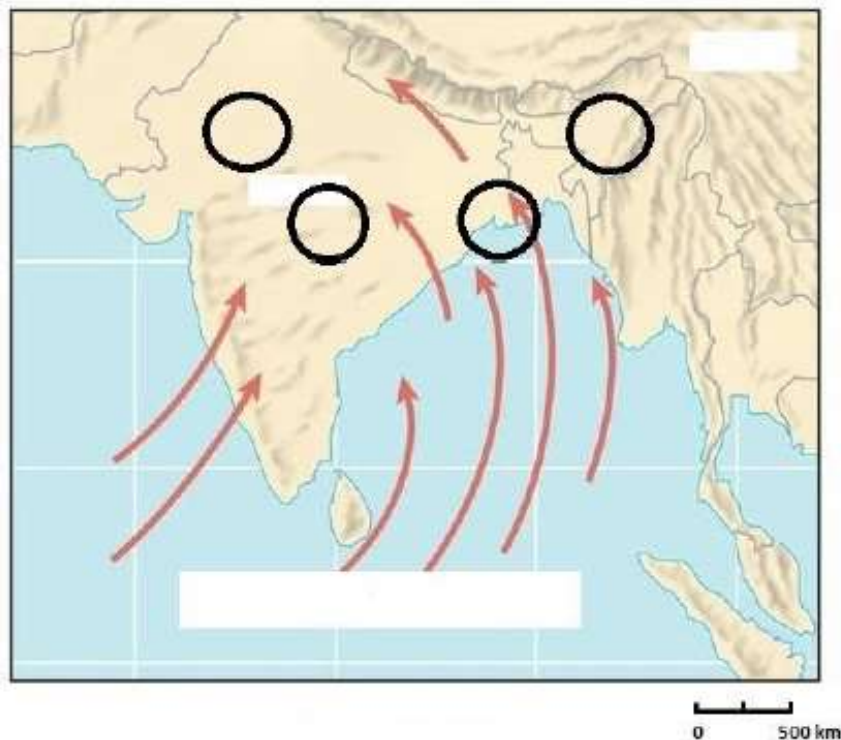
27. Upiši broj **1** unutar kruga na karti koji se nalazi na području najveće gustoće naseljenosti, a u bijeli pravokutnik pripadajuće ime oceana.

28. U parovima pojmova koji su podebljani i odvojeni kosom crtom, u cijelosti zaokruži one koji su točni.

Vjetar na karti prikazan strelicama donosi **vlažno / suho** vrijeme, u pravilu puše u **ljetnom / zimskom** dijelu godine i često uzrokuje prirodnu katastrofu u obliku

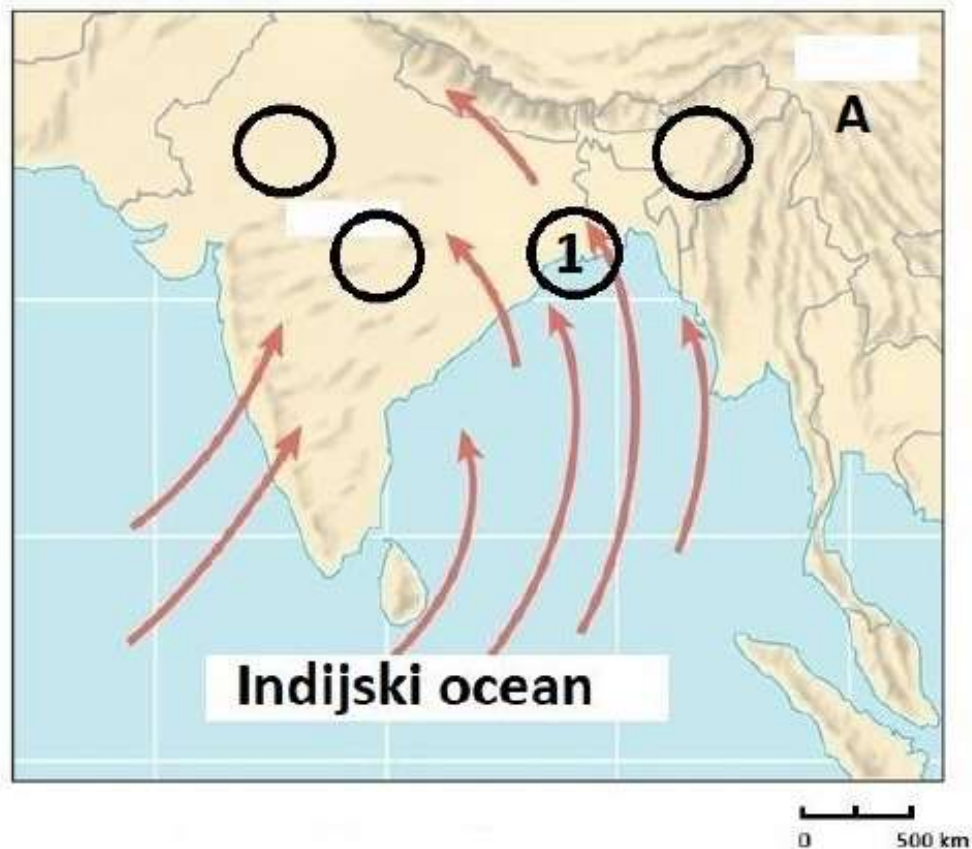
požara / poplava. Na prikazanoj karti viši tlak zraka nalazi se iznad **kopna / oceana**.

29. Upiši slovo **A** unutar granica države u kojoj se provodila „politika jednog djeteta“.



TOČNI ODGOVORI!

Vidi prilog 4.

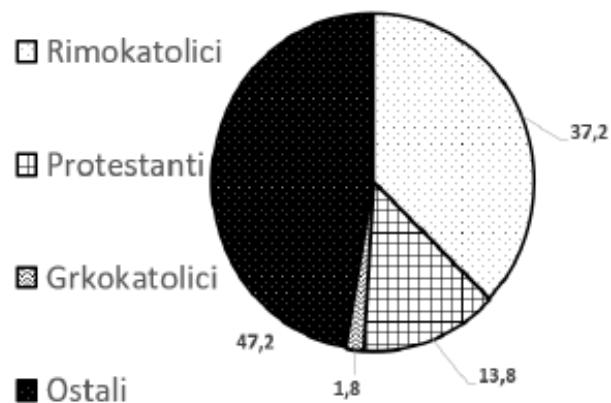


27.

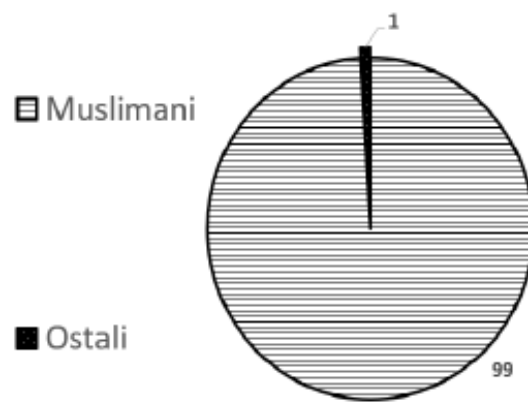
28. Redoslijedom zaokruženo: vlažno; ljetnom; poplava; oceana

29. Vidi prilog 4.

SLJEDEĆA TRI ZADATKA RIJEŠI UZ POMOĆ PRILOŽENIH DIJAGRAMA
VJERSKE STRUKTURE.



1



2

30. Poveži prevladavajuću religiju s odgovarajućim azijskim otocima upisivanjem broja dijagrama ispred ponuđenih odgovora. Tri crte moraju ostati prazne.

___ Java ___ Luzon ___ Šri Lanka ___ Honshu ___ Sahalin

31. Udio kršćana, bez uključenih u skupinu ostali, na dijagramu broj 1 iznosi ____%. Naziv treće velike skupine vjernika koja pripada kršćanstvu, a nije vidljiva na dijagramu 1 je

_____.

32. Većina stanovnika područja na dijagramu broj 2 pripada religiji koju nazivamo _____. Skupini ostali pribrojeni su i ljudi koji ne vjeruju u Boga, a nazivaju se _____.

PROSTOR ZA RAČUNANJE

TOČNI ODGOVORI!

30. 2 Java 1 Luzon ___ Šri Lanka ___ Honshu ___ Sahalin

31. Redoslijedom: **52,8; pravoslavci**

32. Redoslijedom: **islam; ateisti**

**SLJEDEĆA TRI ZADATKA RIJEŠI UZ POMOĆ PRILOŽENE TABLICE
ZAOKRUŽENIH VRIJEDNOSTI POVRŠINE I BROJA SANOVNICA 2018.
GODINE.**

Država	Površina (km ²)	Broj stanovnika	Gustoća naseljenosti (stan./km ²)
Bangladeš	130 000	150 000 000	1154
Republika Koreja	97 000	50 000 000	515
Kazahstan	2 500 000	20 000 000	
Mongolija	1 500 000	3 000 000	
Indonezija	2 000 000	250 000 000	125

33. Upiši u tablicu podatke koji nedostaju.

PROSTOR ZA RAČUNANJE

34. Najmnogoljudnije države iz tablice nalaze se u regiji koja je ime dobila po vjetru ključnom za život tog područja. Ime te regije je

_____ . Azijske države s relativno malom gustoćom naseljenosti nalaze se u unutrašnjosti kontinenta koji je pod velikim utjecajem klimatskog faktora čiji je naziv _____ , što utječe na veće godišnje amplitude temperature i manju godišnju količinu padalina.

35. Ime države iz tablice čiji je ukupan broj stanovnika najbliži ukupnom broju stanovnika Republike Hrvatske je _____ .

TOČNI ODGOVORI!

Vidi prilog 5.

33.

Država	Površina (km ²)	Broj stanovnika	Gustoća naseljenosti (stan./km ²)
Bangladeš	130 000	150 000 000	1154
Republika Koreja	97 000	50 000 000	515
Kazahstan	2 500 000	20 000 000	8
Mongolija	1 500 000	3 000 000	2
Indonezija	2 000 000	250 000 000	125

34. Redoslijedom: **Monsunska Azija (monsunska Azija); kontinentalnost**

35. **Mongolija**