

**ŠKOLSKO/OPĆINSKO/GRADSKO NATJECANJE IZ GEOGRAFIJE
2022. GODINE**

ISPIT

Razred ili kategorija natjecanja: 5. razred

U prezentaciji imate sva pitanja koja su bila na natjecanju prošle godine (siječanj 2022.)

Kada pročitate pitanje napišite odgovor u bilježnicu ili na komad papira.

I tako pitanje po pitanje, ne preskačite ono što ne znate, odgovorite bilo kako.

Kad ste napisali odgovor kliknite još jednom i pokazat će vam se točan odgovor.

Nastojte prije napisati odgovor, a onda provjeriti da li ste odgovorili točno.

Kada riješite test do kraja, zbrojite svoje bodove i sami sebe ocijenite.

Budite poštteni i ne varajte sami sebe.

Sve odgovore koji nisu točni naučite i ponovite znanje.

Sretno!

1. Koja je tvrdnja o važnosti geografije u svakodnevnom životu točna?

- a) naučiti imena svih uzvisina, tekućica i naselja u svom zavičaju
- b) naučiti sve države svijeta i njihove glavne gradove
- c) razumjeti pojave i procese te njihove uzroke i posljedice u geografskom prostoru
- d) zapamtiti što više geografskih pojmova
- e) zapamtiti što više brojčanih podataka potrebnih za analizu i međusobnu usporedbu.

TOČAN ODGOVOR:

1. (1) (prvi zadatak 1 bod)

Zaokruženo: c

Točan odgovor boduje se s jednim bodom.

**SLJEDEĆI ZADATAK RIJEŠI POMOĆU PRILOŽENIH FOTOGRAFIJA.
U ZADATKU SU DVA TOČNA ODGOVORA.**

Fotografije prikazuju sadržaj proučavanja geografije.

A



B



C



D



E



2. Kojim su slovima obilježene fotografije na kojima su prikazani sadržaji koje proučava društvena geografija? _____

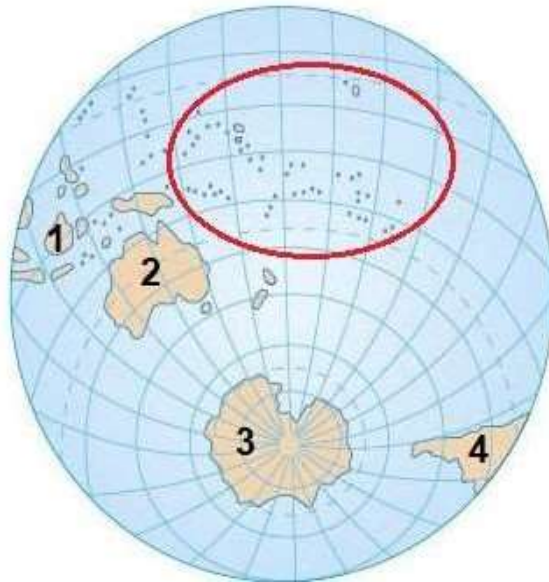
TOČAN ODGOVOR:

2. (2)

Redoslijed nije bitan: **B; D**

Svaki točan odgovor boduje se s jednim bodom.

SLJEDEĆA ČETIRI ZADATKA RIJEŠI POMOĆU PRILOŽENE KARTE.



3. Kojim je brojem označen kontinent Novog svijeta ili njegov dio kojeg presijeca najdulja paralela? _____

4. Najdulja paralela na zidnim geografskim kartama i kartama svijeta u geografskom atlasu prikazuje se ravnom linijom. Kako nazivamo oblik prikazivanja Zemlje na kojemu je najdulja paralela prikazana kao na priloženoj geografskoj karti? _____

5. Ime oceana koji je istočno od kontinenta na priloženoj karti označenog brojem 4 jest _____ ocean. Ime skupine otoka označene crvenom kružnicom na priloženoj karti jest _____

6. Točku koja je udaljena 90° južno od najdulje paralele nazivamo _____, a nalazi se na kontinentu čije je ime _____.

Kojim je brojem na priloženoj karti označen taj kontinent? _____

TOČNI ODGOVORI:

3. (1)

(brojem) 4

Točan odgovor boduje se s jednim bodom.

4. (1)

globus (Globus)

Točan odgovor boduje se s jednim bodom

5. (2)

Redoslijedom: **Atlantski; Oceanija**

Svaki točan odgovor boduje se s jednim bodom.

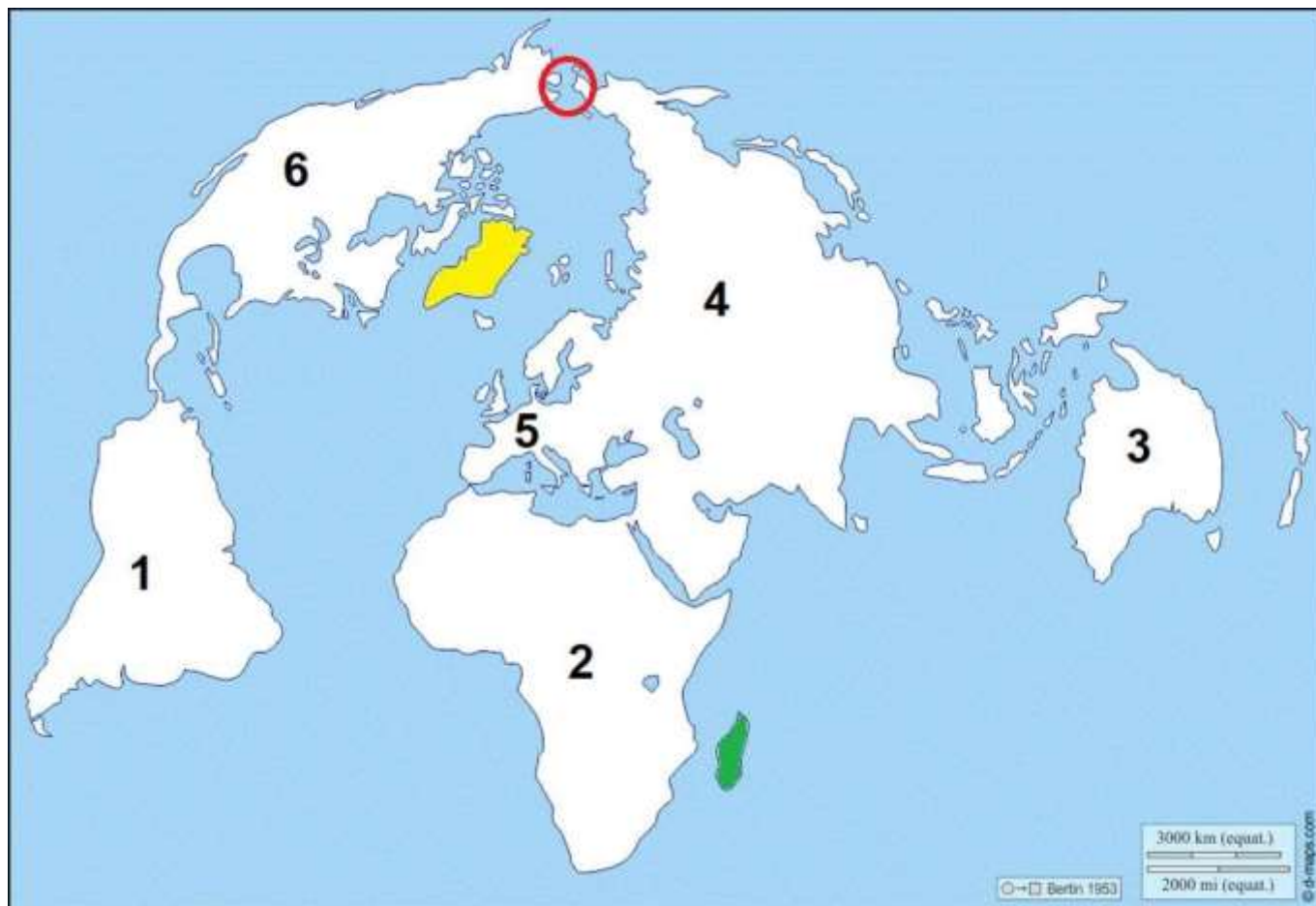
6. (2)

Redoslijedom: **Južni pol (južni pol); Antarktika, 3**

Prvi točan odgovor boduje se s jednim bodom.

Drugi i treći odgovor čine cjelinu i oba točna odgovora boduju se s jednim bodom.

SLJEDEĆA ČETIRI ZADATKA RIJEŠI POMOĆU PRILOŽENE KARTE SVIJETA.



7. Ime otoka ispunjenog na karti žutom bojom jest _____ i dio je kontinenta čije je ime _____

8. Otok ispunjen na karti zelenom bojom nalazi se u oceanu čije je ime _____.

Na kojoj je strani svijeta u odnosu na početni meridijan smješten ocean koji okružuje otok ispunjen na priloženoj karti zelenom bojom? _____

9. Kojim su brojevima na geografskoj karti označeni kontinenti koji se nalaze na sve četiri Zemljine polutke koje nose nazive prema glavnim stranama svijeta? _____

10. Koja su imena dvaju oceana koje povezuje morski prolaz na geografskoj karti označen crvenom kružnicom? _____ i _____

TOČNI ODGOVORI:

7.(2)

Redoslijedom: **Grenland; Sjeverna Amerika**

Svaki točan odgovor boduje se s jednim bodom.

8. (2)

Redoslijedom: **Indijski (ocean); na istoku (istočno)**

Svaki točan odgovor boduje se s jednim bodom.

9. (2)

Redoslijed nije bitan: **2; 4**

Svaki točan odgovor boduje se s jednim bodom.

10. (2)

Redoslijed nije bitan: **Arktički (ocean); Tihi (Veliki; Pacifik; Pacifički) (ocean)**

Svaki točan odgovor boduje se s jednim bodom.

SLJEDEĆI ZADATAK RIJEŠI POMOĆU PRILOŽENE KARTE EUROPE.



11. Koja je tvrdnja o geografskom smještaju Hrvatske točna?

Sva mjesta u Hrvatskoj nalaze se:

- a) istočno od ekvatora i zapadno od početnog meridijana
- b) istočno od ekvatora i južno od početnog meridijana
- c) istočno od početnog meridijana i sjeverno od ekvatora
- d) južno od ekvatora i istočno od početnog meridijana
- e) zapadno od ekvatora i sjeverno od početnog meridijana

12. Koje su dvije tvrdnje o rotaciji Zemlje točne?

- a) Pojas koji odvaja osvijetljenu od neosvijetljene polovice Zemlje naziva se sumračnica.
- b) U rotaciji Zemlje sudjeluju sve točke na Zemljinoj površini.
- c) Za puni okret oko zamišljene osi Zemlji su potrebna 24 dana.
- d) Zemlja se okreće u suprotnom smjeru od prividnog kretanja Sunca na nebu.
- e) Zbog rotacije Zemlje svaka je četvrta godina prijestupna.

TOČNI ODGOVORI:

11. (1)

Zaokruženo: **c**

Točan odgovor boduje se s jednim bodom.

12. (2)

Zaokruženo: **a; d**

Svaki točan odgovor boduje se s jednim bodom.

SLJEDEĆI ZADATAK RIJEŠI POMOĆU PRILOŽENE KARTE HRVATSKE.



13. Kojim je brojem označena županija u kojoj će 28. siječnja osvjetljeni dio dana (obdanica) najdulje trajati? _____

- a) brojem XVI b) brojem XVIII c) brojem XIX
d) brojem XX e) brojem XXI

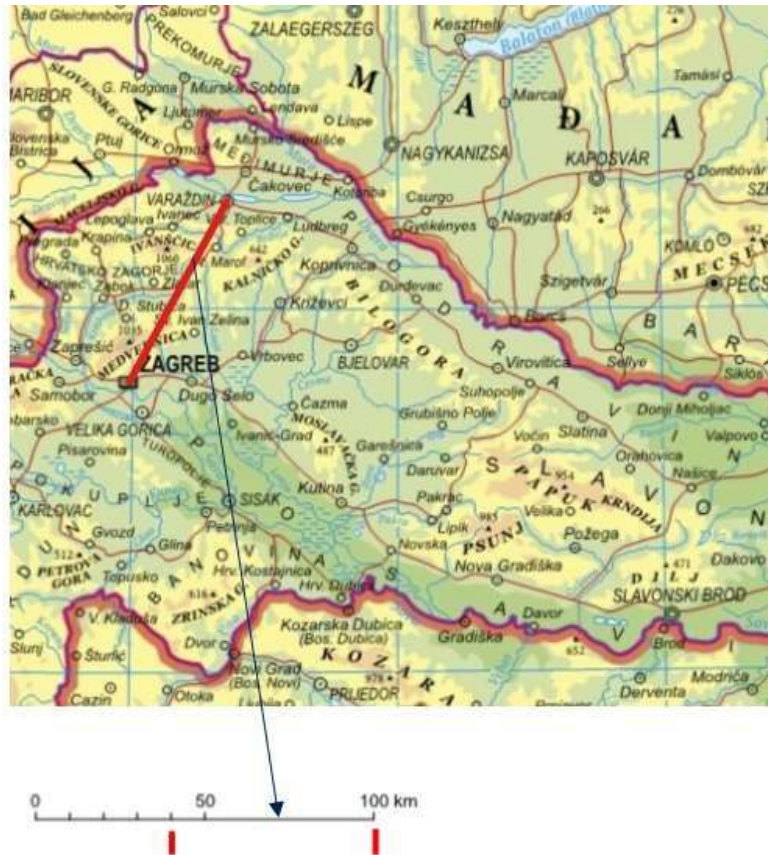
TOČAN ODGOVOR:

13. (1)

Zaokruženo: c

Točan odgovor boduje se s jednim bodom.

SLJEDEĆI ZADATAK RIJEŠI POMOĆU PRILOŽENE KARTE DIJELA PANONSKE HRVATSKE.



14. Kolika je zračna udaljenost između Zagreba i Varaždina?

- a) 40 km
- b) 45 km
- c) 50 km
- d) 55 km
- e) 60 km

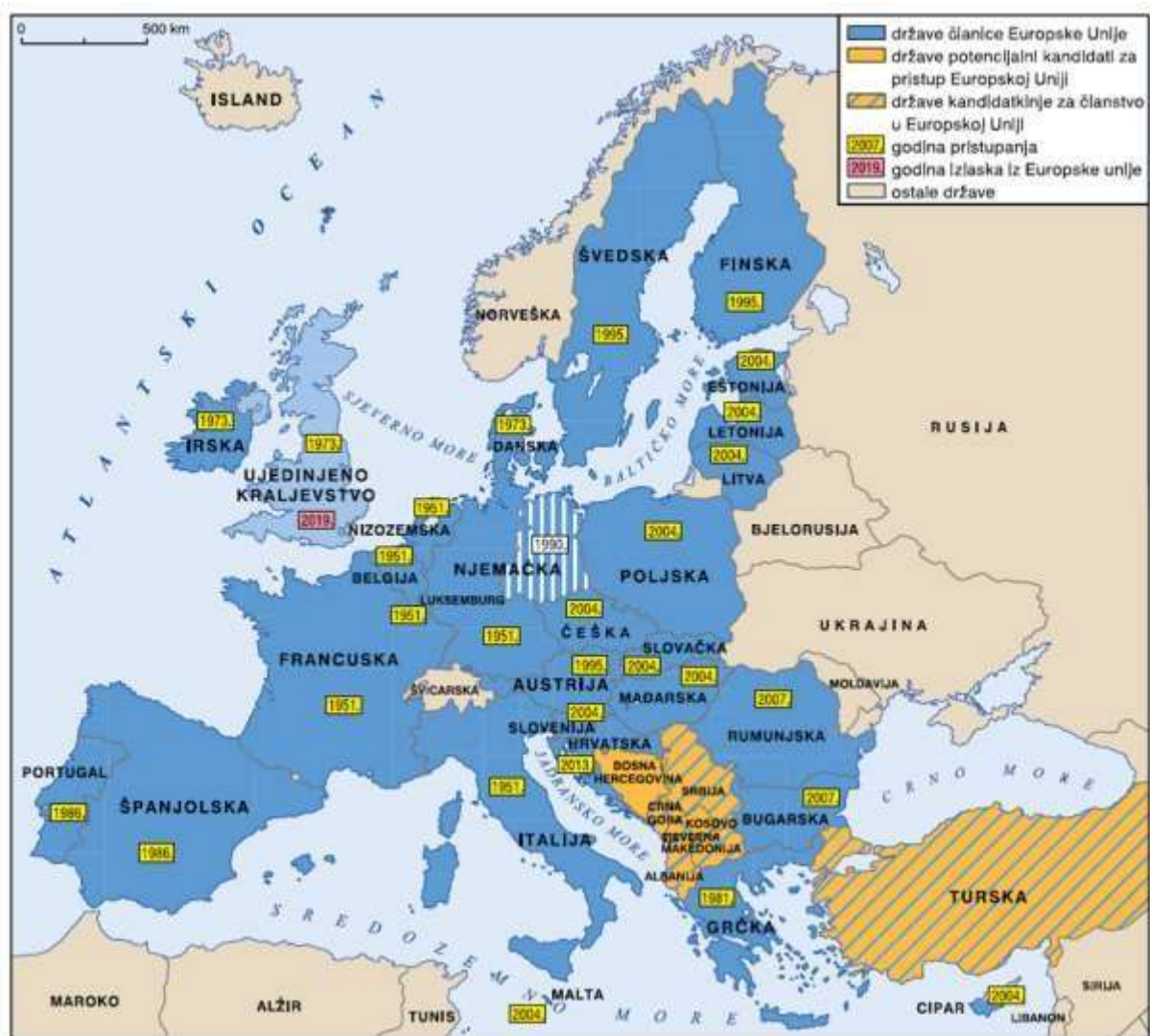
TOČAN ODGOVOR:

14. (1)

Zaokruženo: e

Točan odgovor boduje se s jednim bodom

SLJEDEĆA DVA ZADATKA RIJEŠI POMOĆU PRILOŽENE KARTE EUROPSKE UNIJE.



15. Koja su imena dviju država Sjeverne Europe koje nisu članice Europske unije?

_____ i _____

16. Koje su dvije tvrdnje o Europskoj uniji točne?

- a) Belgija je jedna od najstarijih članica Europske unije.
- b) Estonija je postala članica Europske unije prije Austrije.
- c) Hrvatska je postala punopravna članica Europske unije 1. srpnja 2013.
- d) Najveći broj članica Europske unije nalazi se u Južnoj Europi.
- e) Sjedište Europske unije nalazi se u Londonu, glavnom gradu Ujedinjenog Kraljevstva.

TOČNI ODGOVORI:

15. (2)

Redoslijed nije bitan: **Island; Norveška**

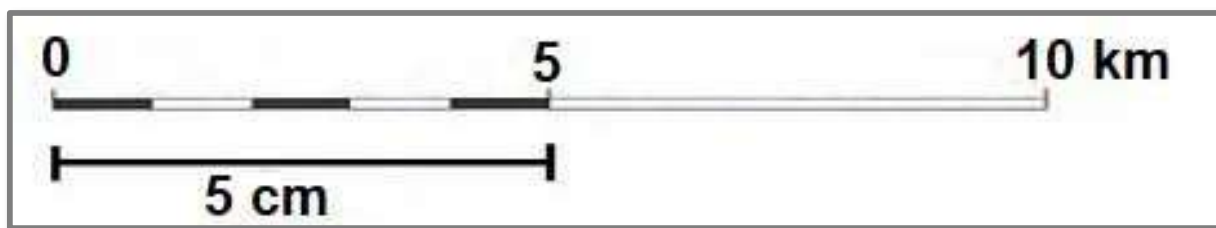
Svaki točan odgovor boduje se s jednim bodom.

16. (2)

Zaokruženo: **a; c**

Svaki točan odgovor boduje se s jednim bodom.

SLJEDEĆA DVA ZADATKA RIJEŠI POMOĆU PRILOŽENOG GRAFIČKOG PRILOGA.



17. Koji je naziv vrste mjerila prikazane crtežom? _____

18. Navedeno i prikazano mjerilo poveži s pripadajućim brojčanim mjerilom.

Za koje je brojčano mjerilo izrađeno mjerilo prikazano crtežom?

- a) 1 : 10 000 000
- b) 1 : 1 000 000
- c) 1 : 100 000
- d) 1 : 10 000
- e) 1 : 1 000

TOČNI ODGOVORI:

17. (1)

Grafičko/Linearno/Dužinsko (priznaju se i točni odgovori upisani malim početnim slovom)


Točan odgovor boduje se s jednim bodom.

18. (1)

Zaokruženo: c

Točan odgovor boduje se s jednim bodom. 17. (1)

SLJEDEĆI ZADATAK RIJEŠI POMOĆU GRAFIČKOG PRILOGA.



19. Koja strana svijeta je označena brojem 1? _____

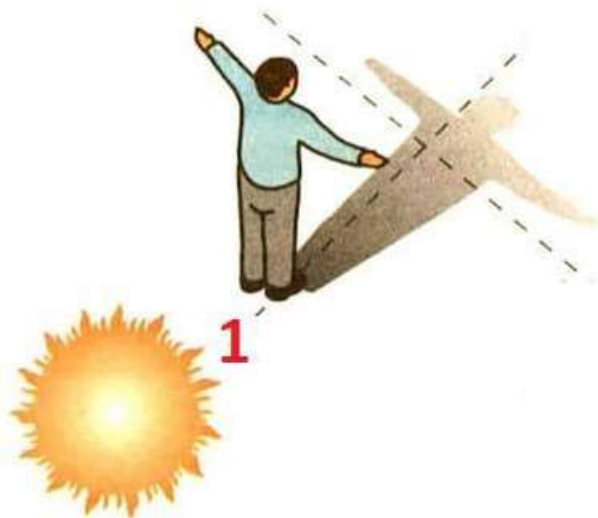
TOČAN ODGOVOR:

19. (1)

istok

Točan odgovor boduje se s jednim bodom.

SLJEDEĆI ZADATAK RIJEŠI POMOĆU GRAFIČKOG PRILOGA.



20. Grafički prikaz prikazuje dječaka koji se orijentira u podne pomoću Sunca na južnoj Zemljinoj polutki. Koja je strana svijeta označena brojem 1?

- a) istok
- b) jug
- c) sjever
- d) zapad
- e) sjeverozapad

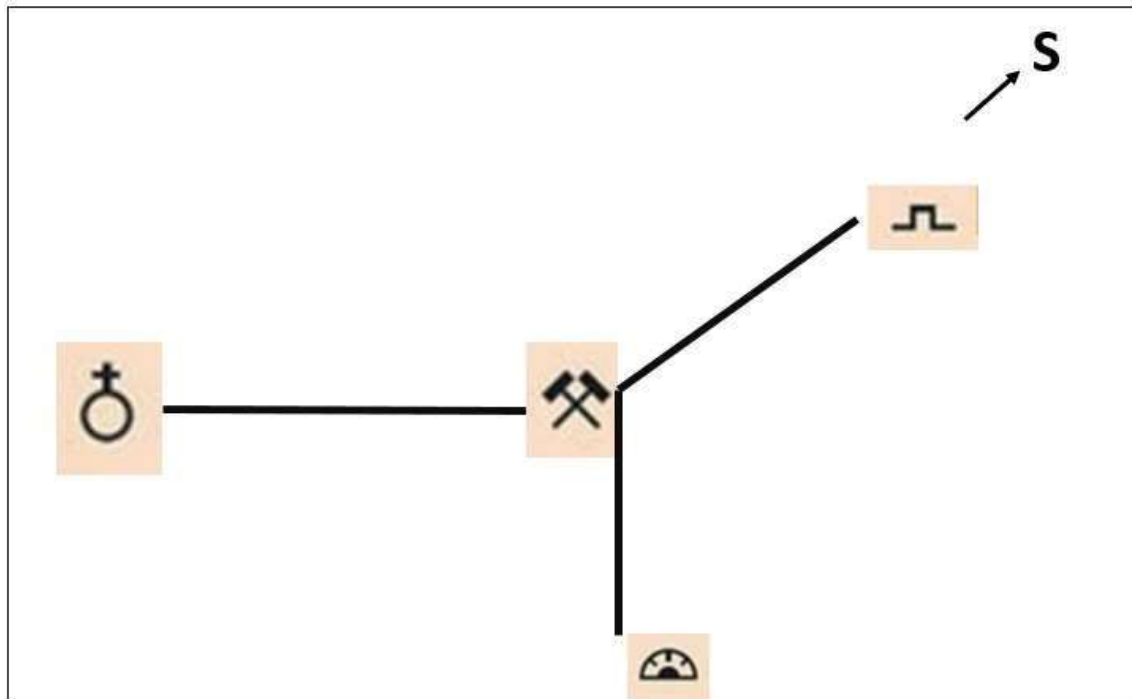
TOČAN ODGOVOR

20. (1)

Zaokruženo: c

Točan odgovor boduje se s jednim bodom.

SLJEDEĆI ZADATAK RIJEŠI POMOĆU GRAFIČKOG PRILOGA.



21. Pozorno promotri skicu terena. Tvoj je zadatak iz rudnika stići do špilje. Prema kojoj strani svijeta ćeš se kretati?

- a) prema jugu
- b) prema jugoistoku
- c) prema sjeveru
- d) prema sjeverozapadu
- e) prema zapadu

TOČAN ODGOVOR:

21. (1)

Zaokruženo: **b**

Točan odgovor boduje se s jednim bodom.

SLJEDEĆI ZADATAK RIJEŠI POMOĆU TEMATSKE KARTE EUROPE.



22. Koje je ime države Zapadne Europe koja je ostvarila najveći broj noćenja turista (u milijunima) 2018. godine? _____

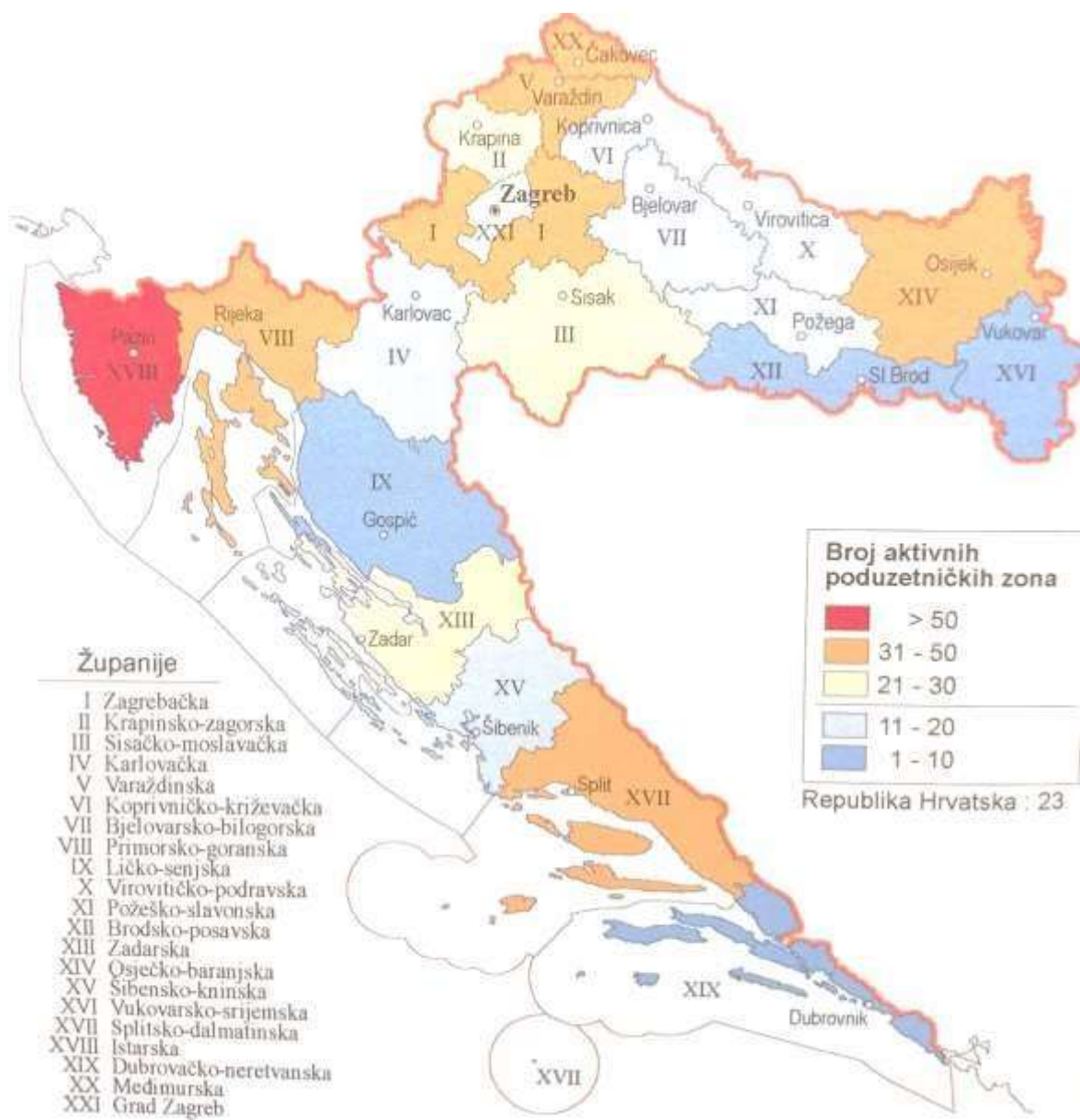
TOČAN ODGOVOR:

22. (1)

Ujedinjeno Kraljevstvo (Velike Britanije i Sjeverne Irske)

Točan odgovor boduje se s jednim bodom

SLJEDEĆI ZADATAK RIJEŠI POMOĆU TEMATSKE KARTE HRVATSKE.



23. Koje je ime županije Primorske Hrvatske s najviše poduzetničkih zona? _____

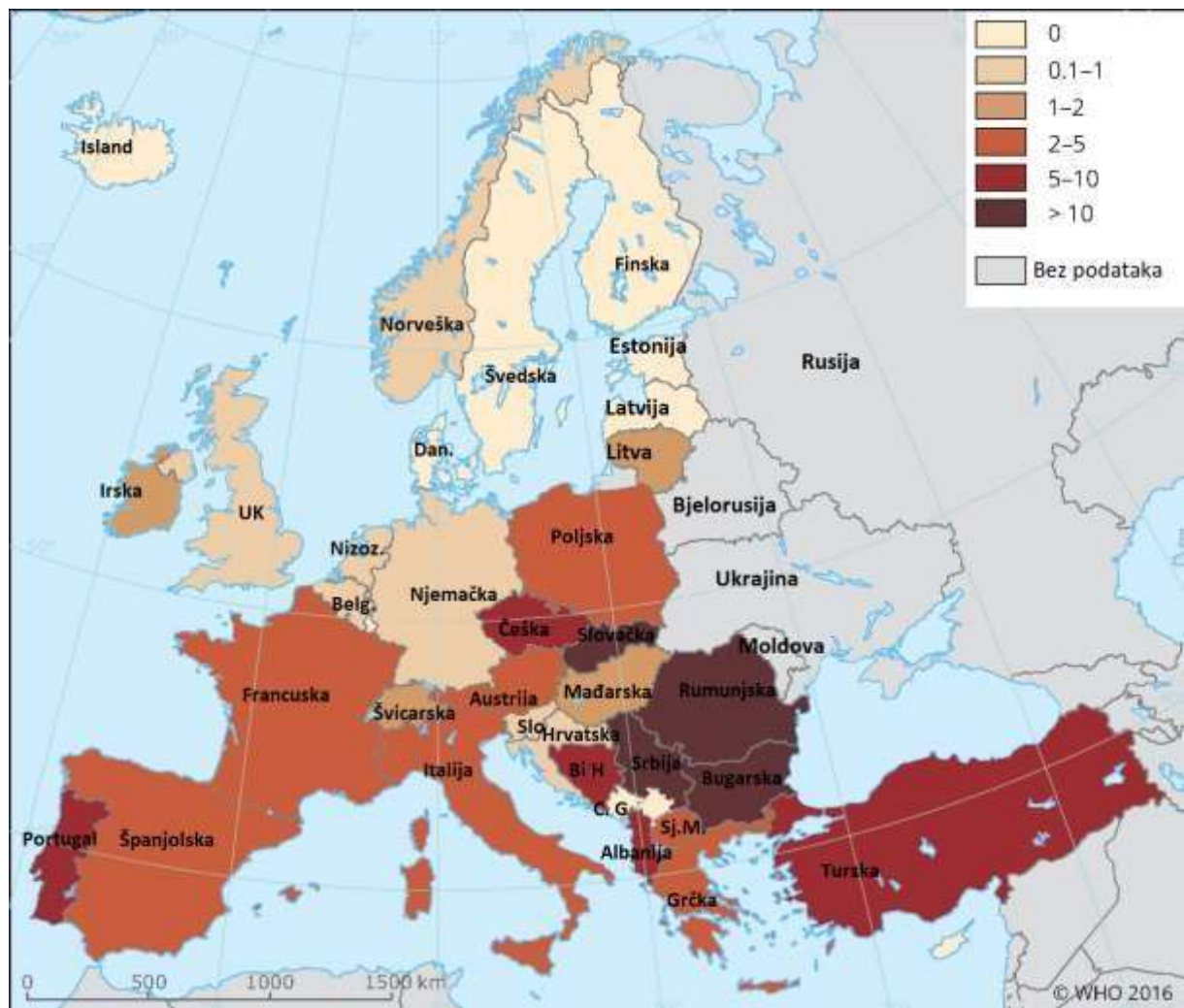
TOČAN ODGOVOR:

23. (1)

Istarska (županija)

Točan odgovor boduje se s jednim bodom.

SLJEDEĆI ZADATAK RIJEŠI POMOĆU TEMATSKE KARTE EUROPE.



24. Koja od država Srednje Europe ima najviše smrti uzrokovanih poplavama na 1000 stanovnika u razdoblju od 1991. do 2015. godine?

- a) Austrija
- b) Češka
- c) Mađarska
- d) Poljska
- e) Slovačka

TOČAN ODGOVOR:

24. (1)

Zaokruženo: e

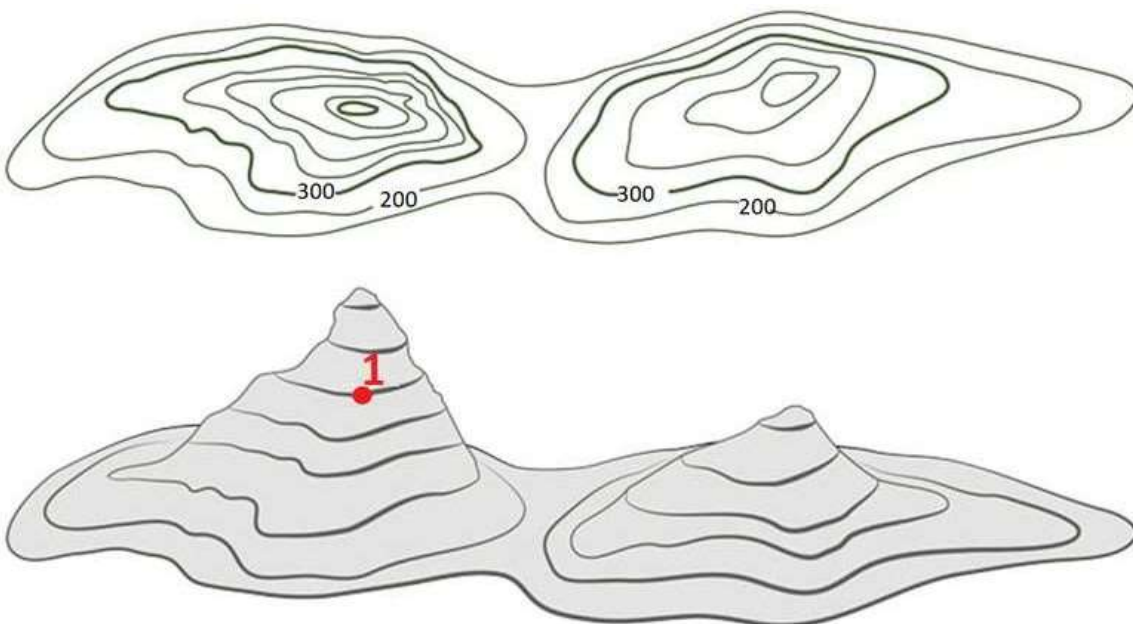
Točan odgovor boduje se s jednim bodom.

SLJEDEĆI ZADATAK RIJEŠI POMOĆU GRAFIČKOG PRILOGA.



25. Koji je puni naziv uređaja prikazanog na slici? _____

SLJEDEĆI ZADATAK RIJEŠI POMOĆU GRAFIČKOG PRILOGA.



26. Na kojoj se visini nalazi crvena točka označena brojem 1? _____

TOČNI ODGOVORI:

25. (1)

Globalni (globalni) pozicijski sustav (sistem)

(Sustav za globalno pozicioniranje/Global Positioning System)

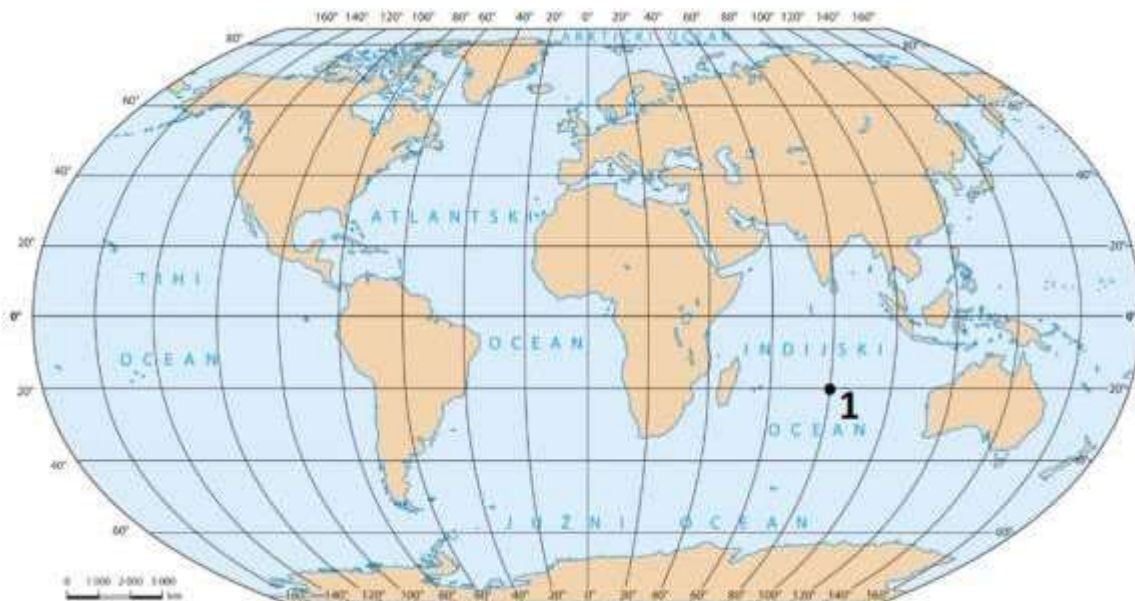
Točan odgovor boduje se s jednim bodom.

26. (1)

(Na; na) 600 m/600 metara (ne priznaje se odgovor bez upisane mjerne jedinice)

Točan odgovor boduje se s jednim bodom.

SLJEDEĆA DVA ZADATKA RIJEŠI POMOĆU KARTE SVIJETA.



27. Na crtu upiši odrednice (koordinate) geografskog smještaja točke označene brojem 1.

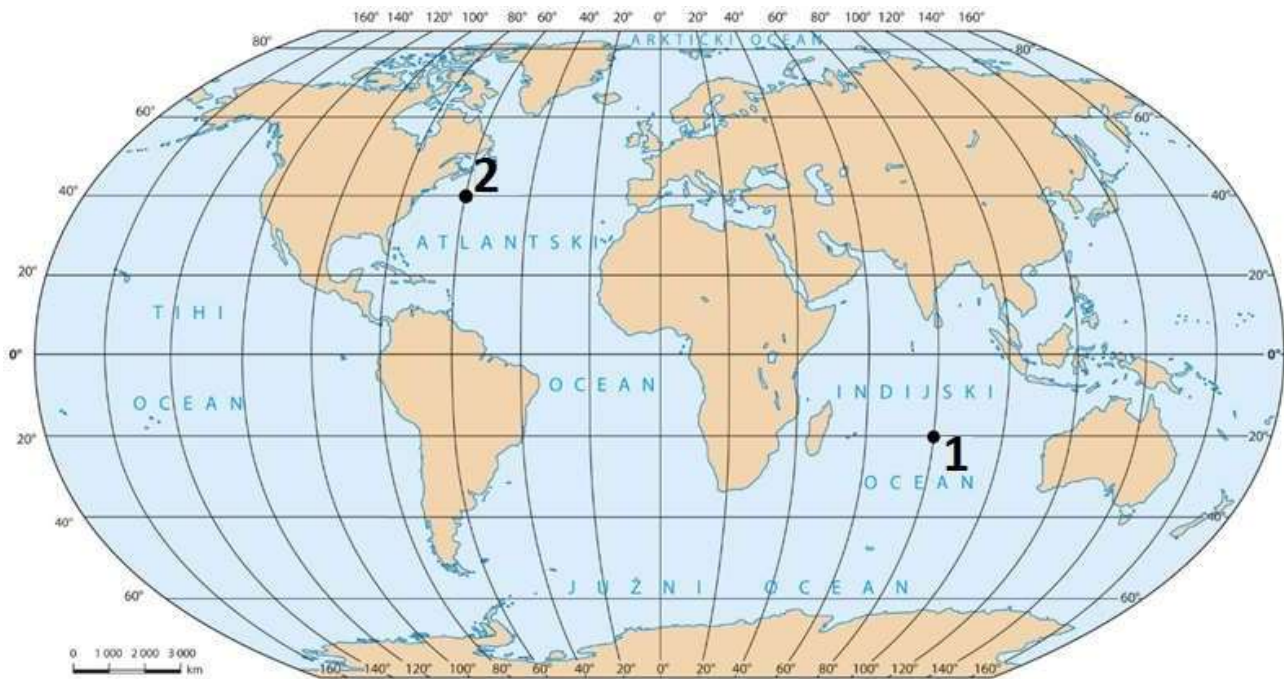
TOČAN ODGOVOR:

27. (1)

20° južno od ekvatora

80° istočno od početnog meridijana

Točan odgovor boduje se s jednim bodom. Priznaje se točan odgovor bez obzira na redoslijed upisivanja koordinata.



28. Gdje se nalazi točka označena brojem 2 u odnosu na točku označenu brojem 1?

- a) 40° sjeverno i 60° zapadno od točke označene brojem 1
- b) 50° sjeverno i 80° zapadno od točke označene brojem 1
- c) 60° sjeverno i 140° zapadno od točke označene brojem 1
- d) 70° sjeverno i 130° zapadno od točke označene brojem 1
- e) 80° sjeverno i 100° zapadno od točke označene brojem 1

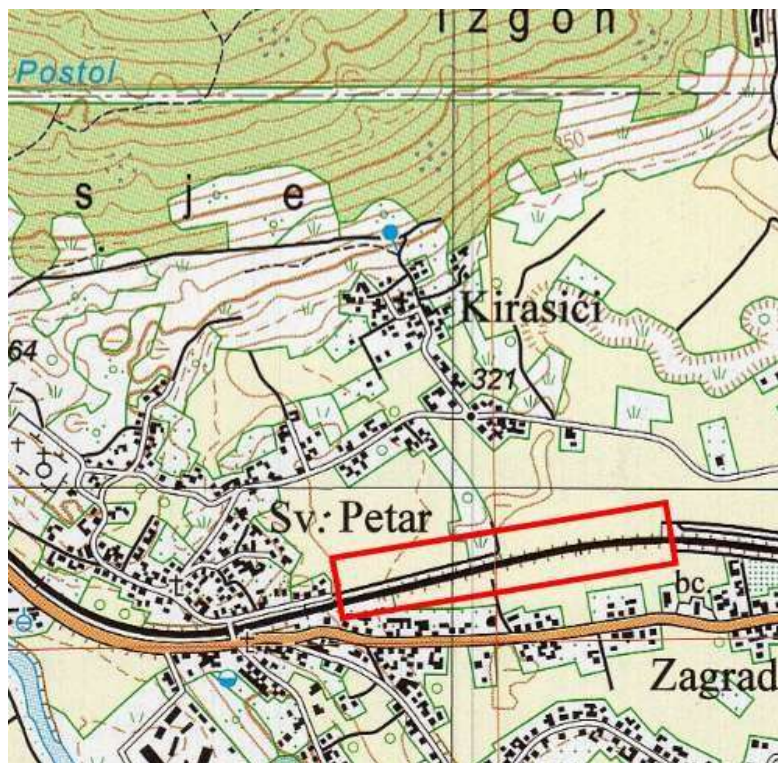
TOČAN ODGOVOR:

28. (1)

Zaokruženo: c

Točan odgovor boduje se s jednim bodom.

SLJEDEĆA DVA ZADATKA RIJEŠI POMOĆU PRILOŽENE KARTE.



29. Naziv topografskog znaka uokvirenog na karti crvenim pravokutnikom jest _____

30. Naziv metode kojom je prikazan reljef na priloženoj geografskoj karti jest metoda _____.

TOČNI ODGOVORI:

29. (1) željeznička pruga

Točan odgovor boduje se s jednim bodom.

30. (1)

izohipsa i kota (slojnica i kota) (izohipsa) (slojnica)

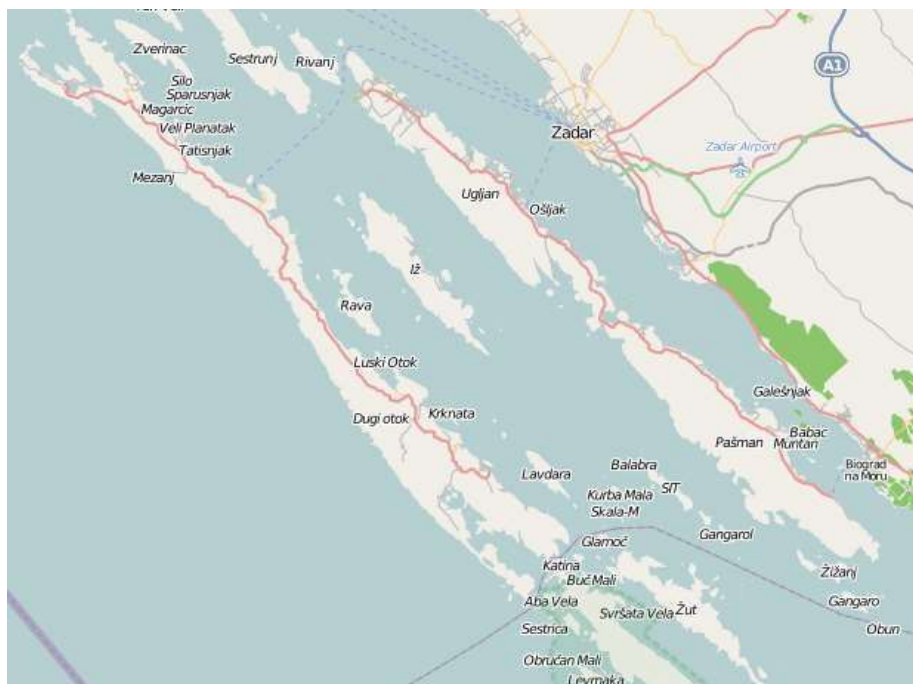
Ne priznaje odgovor ako je upisano samo kota.

Točan odgovor boduje se s jednim bodom.

**SLJEDEĆA DVA ZADATKA RIJEŠI POMOĆU PRILOŽENE KARTE ZADARSKOG
ARHIPELAGA I ISJEČKA
CORONELLIJEVE KARTE ZADARSKOG OKRUŽJA IZ 1688. GODINE.**



31. Ime otoka na isječku Coronellijeve karte označenog zelenim pravokutnikom i brojem 1 jest



32. Kojim je brojem na Coronellijevoj karti označen otok Lavdara?

- a) brojem 1 b) brojem 2 c) brojem 3
d) brojem 4 e) brojem 5

TOČNI ODGOVORI:

31. (1)

Rava

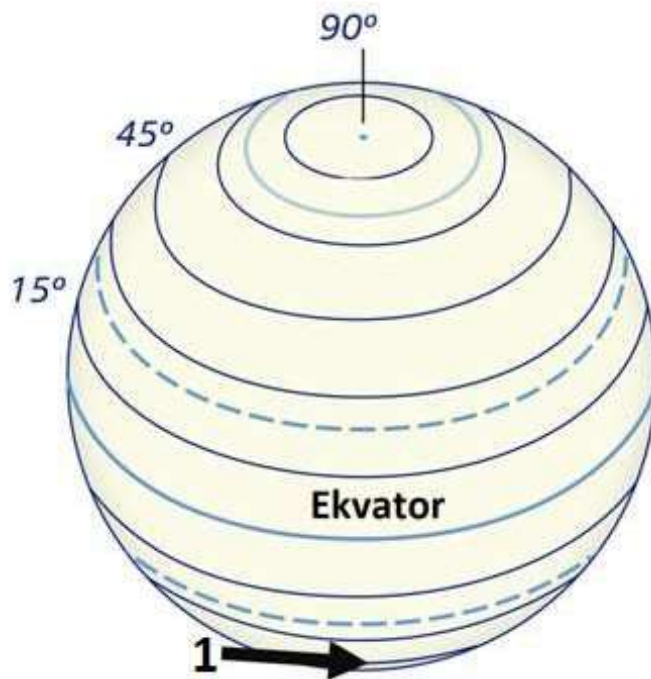
Točan odgovor boduje se s jednim bodom.

32. (1)

Zaokruženo: c

Točan odgovor boduje se s jednim bodom.

SLJEDEĆI ZADATAK RIJEŠI POMOĆU GRAFIČKOG PRILOGA.



33. Kolika je vrijednost paralele označene brojem 1 i strelicom?

- a) 30°
- b) 45°
- c) 60°
- d) 85°
- e) 90°

TOČAN ODGOVOR:

33. (1)

Zaokruženo: **b**

Točan odgovor boduje se s jednim bodom.

SLJEDEĆI ZADATAK RIJEŠI POMOĆU PRILOŽENE TEMATSKE KARTE.



34. Kojom autobusnom linijom ćeš najbrže stići od hotela Kazbek do Opće bolnice?

- a) Autobusnom linijom označenom ljubičastom bojom.
- b) Autobusnom linijom označenom plavom bojom.
- c) Autobusnom linijom označenom zelenom bojom.
- d) Autobusnom linijom označenom tamno zelenom bojom.
- e) Autobusnom linijom označenom žutom bojom.

TOČAN ODGOVOR:

34. (1)

Zakruženo: **a**

Točan odgovor boduje se s jednim bodom.

SLJEDEĆI ZADATAK RIJEŠI POMOĆU GRAFIČKOG PRILOGA.



35. Naziv suvremenog navigacijskog instrumenta čiji zaslon je prikazan na grafičkom prilogu jest _____.

TOČAN ODGOVOR:

35. (1)

radar


Točan odgovor boduje se s jednim bodom.

SLJEDEĆA TRI ZADATKA RIJEŠI POMOĆU GEOGRAFSKE KARTE.



TUMAČ ZNAKOVA I KRATICA

NASELJA	Broj stanovnika:
	ZAGREB naselje s više od 500 000
	RIJEKA 100 001 – 500 000
	ZADAR 50 001 – 100 000
	Šibenik 30 001 – 50 000
	Zaprešić 15 001 – 30 000
	Ogulin 5 001 – 15 000
	ostali ≤ 5 000
	državna granica
	autocesta
	planirana autoceste
	državne ceste
	zračna luka
	most, prijevoj
	visinska točka, kota
	toplice



36. Na kojoj se reljefnoj uzvisini dijela Panonske Hrvatske nalazi najviša kota?

- a) na Dilj gori b) na Krndiji c) na Papuku
 d) na Psunju e) na Ravnoj gori

37. Ime grada veličine do 5000 stanovnika u čijoj se blizini nalaze toplice jest

_____.

38. Ime najzapadnije smještenog naselja koje je udaljeno od autoceste manje od 2 km jest

_____.

TOČNI ODGOVORI:

36. (1)

Zaokruženo: **d**

Točan odgovor boduje se s jednim bodom.

37. (1)

Lipik

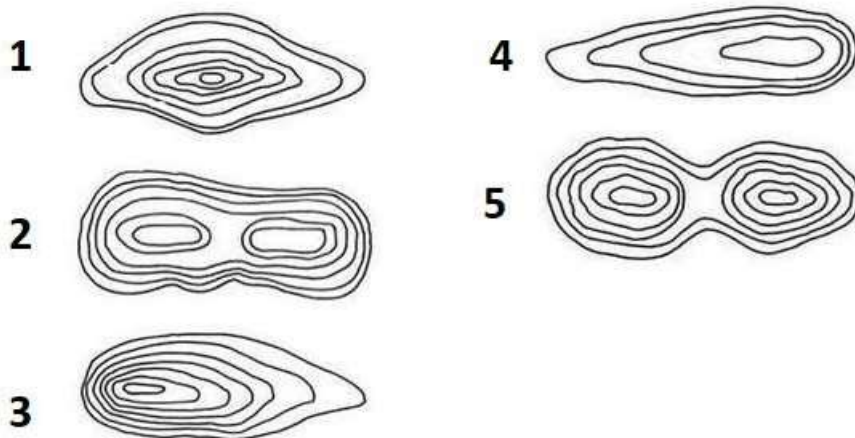
Točan odgovor boduje se s jednim bodom.

38. (1)

Okučani

Točan odgovor boduje se s jednim bodom.

SLJEDEĆI ZADATAK RIJEŠI POMOĆU GRAFIČKOG PRILOGA



39. Kojim je brojem označen grafički prilog s prikazom reljefnog oblika s najvećom strminom?

SLJEDEĆI ZADATAK RIJEŠI POMOĆU GRAFIČKOG PRILOGA.



40. Kojim je brojem označen sloj koji prikazuje stambene objekte u prostoru? _____

TOČNI ODGOVORI:

39. (1)

3

Točan odgovor boduje se s jednim bodom.

40. (1)

3

Točan odgovor boduje se s jednim bodom.